

HISTÓRIA

01. Leia o excerto abaixo.

Quem quer que, por ignorância, vá ter às Sereias,
[e o canto
delas ouvir, nunca mais a mulher nem os tenros
[filhinhos
hão de saudá-lo contentes, por não mais voltar
[para casa.
Enfeitiçado será pela voz das Sereias maviosas.

Este excerto faz parte da obra escrita por um importante poeta grego, por volta do século VIII a. C. O nome do autor do poema e o título da respectiva obra são

- (A) Homero, *A Ilíada*.
- (B) Hesíodo, *Os Trabalhos e os Dias*.
- (C) Hesíodo, *Teogonia*.
- (D) Homero, *A Odisséia*.
- (E) Heródoto, *História*.

02. Sobre o período histórico denominado Alta Idade Média, considere as seguintes afirmações.

- I - Carlos Magno foi responsável pela unificação de grande parte do antigo território romano na Europa.
- II - As cidades permaneceram como importantes centros econômicos e culturais, devido, em parte, à reabertura do mar Mediterrâneo pelos cruzados.
- III - A Europa cristã, fragilizada pelo declínio do Império Carolíngio, foi vítima de inúmeras invasões, principalmente por parte dos povos escandinavos e dos sarracenos.

Quais estão corretas?

- (A) Apenas I.
- (B) Apenas II.
- (C) Apenas I e III.
- (D) Apenas II e III.
- (E) I, II e III.

03. Durante a Baixa Idade Média, ocorreu em Portugal a denominada Revolução de Avis (1383-1385), que resultou em uma mudança dinástica, cuja principal consequência foi

- (A) o enfraquecimento do poder monárquico diante das pressões localistas que ainda sobreviviam nas pequenas circunscrições territoriais do Reino.
- (B) o surgimento de uma burguesia industrial cosmopolita e afinada com a mentalidade capitalista que se instaurava na Europa.
- (C) o início das grandes navegações marítimas, que resultaram no descobrimento da América e no reconhecimento da Oceania pelos lusitanos.
- (D) o início do processo de expansão ultramarina, que levaria às conquistas no Oriente, além da ocupação e do desenvolvimento econômico da América portuguesa.
- (E) o surgimento de uma aristocracia completamente independente do Estado, que tinha como projeto político mais relevante a expansão do ideal cruzadista.

04. Em reação aos movimentos religiosos que contestavam os dogmas oficiais do catolicismo, a Igreja Romana tomou uma série de medidas que seriam conhecidas como Contra-Reforma.

Com relação a esse contexto, assinale com **V** (verdadeiro) ou **F** (falso) as afirmações abaixo.

- () Uma das medidas mais drásticas adotadas em relação à reforma protestante foi a criação de uma nova instituição, a Santa Inquisição, responsável por punir e prevenir os desvios dogmáticos.
- () O *Index Librorum Prohibitorum* era uma lista de livros cujo conteúdo ameaçava ou contradizia as idéias oficiais da Igreja.
- () O Concílio de Trento reafirmou antigos dogmas católicos, entre os quais o de que o Papa é infalível, por representar a vontade de Deus na Terra.
- () O movimento da Contra-Reforma evitou que o protestantismo se tornasse uma ameaça real em estados tradicionalmente católicos, como Espanha e Portugal.

A seqüência correta de preenchimento dos parênteses, de cima para baixo, é

- (A) F - V - V - V.
- (B) V - V - F - F.
- (C) V - F - V - F.
- (D) V - F - F - V.
- (E) F - V - V - F.

05. O sistema monárquico absolutista, que atingiu seu apogeu sob o reinado de Luís XIV, apresenta-se como o modelo de gestão política característico do período histórico moderno.

Sobre esse sistema, é correto afirmar que ele

- (A) não era arbitrário, pois o monarca não podia transgredir certas leis e costumes fundamentais do reino.
- (B) foi responsável pelo desenvolvimento do conceito de cidadania, ao afirmar as liberdades individuais em contraposição ao sistema político medieval.
- (C) apresentava, entre seus princípios teóricos, a noção de que a potência soberana do Estado emana do povo.
- (D) foi enaltecido pelos iluministas, notadamente pelo filósofo Montesquieu, admirador da tripartição do poder político adotada pelo absolutismo.
- (E) não foi bem-sucedido como forma de governo, pois desprezava a racionalização burocrática da máquina estatal.

06. Em fins do século XVI e ao longo do século XVII, o Ocidente foi palco de uma agitação intelectual que resultou no estabelecimento de novos paradigmas científicos.

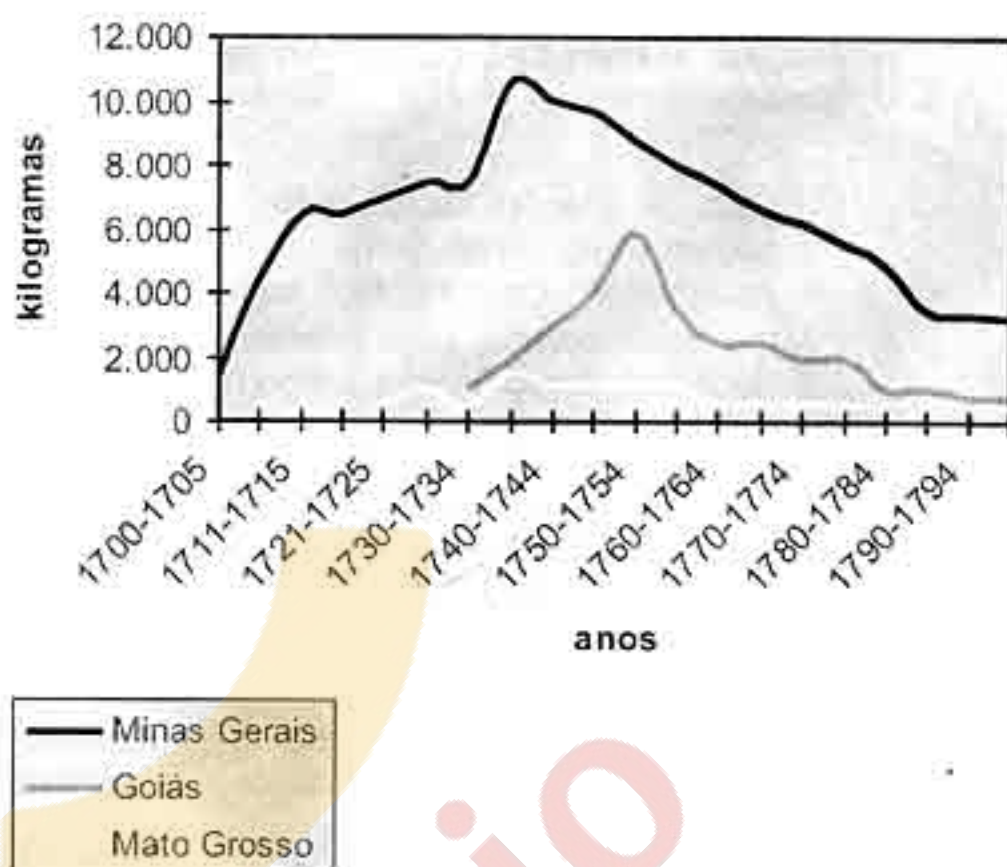
Sobre essa nova visão do mundo, considere as seguintes afirmações.

- I - Ao propor que existem princípios que regem o movimento e que estes podem ser matematicamente demonstrados, Newton rompeu com a visão religiosa da natureza e inaugurou a ciência tal qual a conhecemos.
- II - A idéia de que a Terra não é o centro do Universo, mas gira em torno do Sol, foi inicialmente classificada como herética pela Igreja; porém, diante das evidências, acabou sendo incorporada pelo pensamento cristão da época.
- III - Um dos pilares dessas novas concepções acerca da natureza foi o avanço das técnicas de observação, que expandiu os limites da visão ao micro e ao macroscópico.

Quais estão corretas?

- (A) Apenas I.
- (B) Apenas I e II.
- (C) Apenas I e III.
- (D) Apenas II e III.
- (E) I, II e III.

07. Observe o gráfico abaixo, relativo à produção aurífera no Brasil do século XVIII.



Adaptado de: PINTO, Virgílio N. *O ouro brasileiro e o comércio anglo-português*. São Paulo: Companhia Editora Nacional, 1979. p. 114.

Com base nos dados do gráfico, considere as seguintes afirmações.

- I - O auge da produção de ouro em Minas Gerais foi atingido ainda na primeira metade do século XVIII, mas, na segunda metade do século, a extração aurífera na capitania entrou em declínio acentuado.
- II - A produção aurífera conjunta de Goiás e de Mato Grosso suplantou durante alguns períodos a produção de ouro da capitania de Minas Gerais.
- III - A produção aurífera de Goiás atingiu seu ápice ao mesmo tempo em que ocorria a queda nos rendimentos do ouro produzido na região de Minas Gerais.

Quais estão corretas?

- (A) Apenas I.
- (B) Apenas I e II.
- (C) Apenas I e III.
- (D) Apenas II e III.
- (E) I, II e III.

08. Após a Revolução de 1789, a França viveu um período de grande instabilidade, marcado pelo radicalismo e pela constante ameaça externa.

Assinale a alternativa correta em relação a esse período.

- (A) Com a queda da Bastilha, símbolo do autoritarismo real, os deputados da Assembléia Constituinte, aproveitando o momento político, proclamaram a República, pondo um termo final ao Antigo Regime.
- (B) Em meio ao caos provocado pela fuga do Rei e pela derrocada da Monarquia, iniciou-se, em Paris, a criação de uma sociedade baseada nos ideais socialistas, a Comuna de Paris.
- (C) O período conhecido como o Grande Terror foi protagonizado pelo jacobino Robespierre, que posteriormente foi derrubado por Napoleão, um general que se destacara por sua trajetória vitoriosa.
- (D) O golpe do 18 Brumário representou a queda do Diretório, regime que se pretendia representante dos interesses burgueses, mas que era inepto a governar.
- (E) Durante um curto período de tempo, após a queda da Bastilha, a França vivenciou uma Monarquia Constitucional, mas, na prática, o Rei ainda mantinha a mesma autoridade de antes.

09. A Revolução Industrial representou uma profunda transformação da economia, marcada pela utilização de novas técnicas, pelo uso da energia fóssil e por uma nova forma de organização da produção.

Sobre essa revolução, é correto afirmar que

- (A) a Inglaterra, apesar da forte resistência de uma parcela da nobreza, a *gentry*, foi a primeira nação a incorporar os avanços científicos e a reorganizar a sua economia.
- (B) as colônias se tornaram as principais consumidoras dos produtos industrializados da Europa, pois o contingente populacional europeu se mantinha havia décadas no mesmo nível.
- (C) ela se contrapôs a uma certa estagnação da agricultura e do comércio, principais bases econômicas do sistema feudal.
- (D) os grandes avanços produtivos dela resultantes constituíram fatores fundamentais que levaram a Inglaterra a incentivar a abolição do tráfico escravista.
- (E) ela desenvolveu o sistema manufatureiro e consolidou a exploração da mão-de-obra servil nas colônias inglesas do Novo Mundo.

10. Assinale a alternativa que preenche corretamente as lacunas do texto abaixo, na ordem em que aparecem.

Uma das mais importantes instituições da administração militar do Império brasileiro, a , foi criada durante o período Ela foi responsável, até meados do século XIX, pela tarefa fundamental de

- (A) Guarda Nacional – regencial – controle social
- (B) Companhia das Ordenanças – colonial – defesa das fronteiras
- (C) Companhia das Ordenanças – joanino – controle social
- (D) Guarda Nacional – colonial – patrulhamento das vilas
- (E) Companhia de Auxiliares – regencial – defesa das fronteiras

11. Assinale com **V** (verdadeiro) ou **F** (falso) as afirmações abaixo, com relação à imigração alemã no Rio Grande do Sul.

- () Os primeiros imigrantes vieram antes da Guerra dos Farrapos e se instalaram na região de São Leopoldo.
- () A Guerra dos Farrapos teve efeito nulo no fluxo migratório, pois se desenvolveu em regiões distantes daquelas ocupadas pelos colonos alemães.
- () Porto Alegre teve expressiva presença de imigrantes teutos na segunda metade do século XIX.
- () A Revolta dos Mucker aconteceu na região missioneira, ocupada pelos imigrantes germânicos na primeira metade do século XIX.

A seqüência correta de preenchimento dos parênteses, de cima para baixo, é

- (A) V – V – F – V.
- (B) V – F – V – F.
- (C) F – V – V – F.
- (D) F – V – F – V.
- (E) V – F – F – F.

12. A Unificação Alemã, habilmente arquitetada por Otto von Bismarck, realizou-se em torno de guerras bem-sucedidas contra potências vizinhas.

Assinale a alternativa correta em relação às motivações e aos acontecimentos que desencadearam esse processo de unificação.

- (A) A fragmentação política obstaculizava o pleno desenvolvimento comercial e industrial da região. A unificação promoveria um mercado ágil e ampliado, com condições de enfrentar a concorrência inglesa através da proteção governamental.
- (B) A unificação foi liderada pela Áustria, o mais poderoso dos Estados germânicos e sucessora do extinto Sacro-Império, capaz de eliminar as pretensões da Prússia. Aliado da França, o país austríaco contou com o seu apoio para vencer as resistências germânicas do sul.
- (C) A constituição, redigida por Bismarck, inaugurou uma era democrática nos estados alemães, sob influência dos ideais da Revolução Francesa, baseados na soberania e na participação popular.
- (D) As decisões do Congresso de Viena, ao reconhecerem o direito de independência da Alemanha, foram fundamentais para a consolidação da unificação, pois inibiram as pretensões italianas aos territórios do sul da Alemanha.
- (E) O processo de unificação alemã contou com o apoio da França, que, acossada pela supremacia britânica, via no novo Estado um importante aliado na corrida imperialista.

13. Assinale com **V** (verdadeiro) ou **F** (falso) as afirmações abaixo, com relação às contestações ao poder monárquico ocorridas no Brasil oitocentista.

- () Durante o período joanino, não ocorreram revoltas contra a monarquia portuguesa estabelecida nos trópicos.
- () O Primeiro Reinado foi um período muito conturbado, durante o qual a principal revolta interna foi a Confederação do Equador.
- () No período regencial, as revoltas disseminaram-se pelo Brasil afora, atingindo as províncias fronteiriças do Rio Grande do Sul e do Pará.
- () O Segundo Reinado foi o período de consolidação do projeto centralizador da Coroa, não havendo ocorrência de revoltas.

A sequência correta de preenchimento dos parênteses, de cima para baixo, é

- (A) V – V – F – V.
- (B) V – F – V – F.
- (C) F – V – V – F.
- (D) F – V – F – V.
- (E) F – F – V – V.

14. Observe a charge abaixo, publicada na *Revista Ilustrada*.



Adaptado de: *Nossa História*, nov. 2005, p. 89.

Esta charge refere-se aos efeitos da alta da inflação brasileira observados durante o governo de

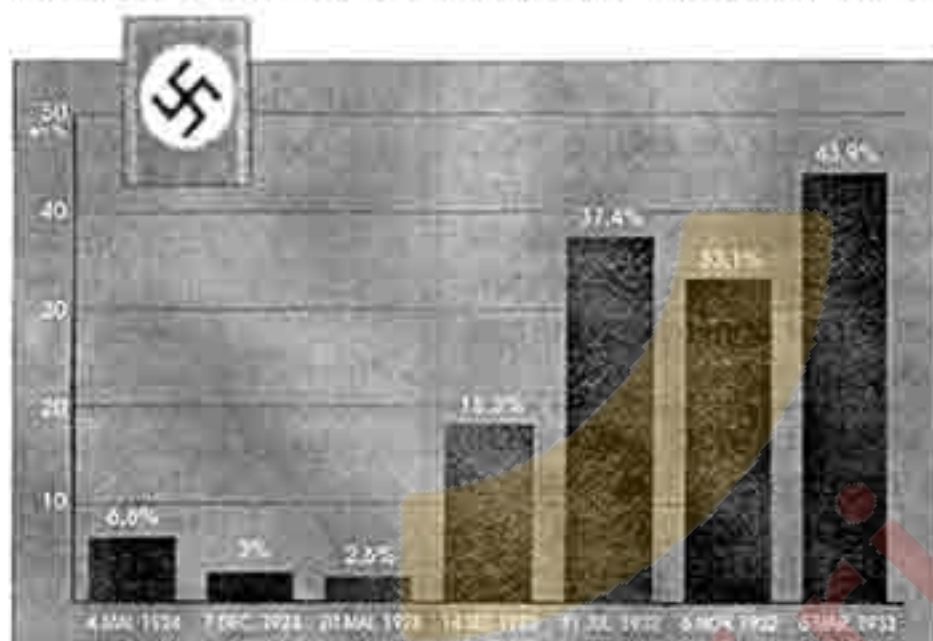
- (A) Deodoro da Fonseca.
- (B) Floriano Peixoto.
- (C) Prudente de Moraes.
- (D) Rodrigues Alves.
- (E) Campos Sales.

15. A cidade de Porto Alegre, atual capital do estado do Rio Grande do Sul, foi fundada no

- (A) século XVI, a partir da prévia existência de uma aldeia indígena habitada basicamente por guaranis.
- (B) século XVI, quando houve a repartição do território brasileiro através das capitanias hereditárias.
- (C) século XVII, como uma resposta portuguesa à fundação e ao estabelecimento dos Sete Povos das Missões.
- (D) século XVII, com a chegada de imigrantes espanhóis ao sul do Brasil.
- (E) século XVIII, em função de sua localização estratégica para a defesa do território.

16. Observe o gráfico abaixo.

Resultados do partido nazista nas eleições legislativas de 1924 a 1933



Adaptado de: *L'Histoire*, n. 230, mar. 1999, p. 47.

Com base nos dados desse gráfico, considere as seguintes afirmações.

- I - Após o fracasso do "Putsch de Munique", o partido nazista sofreu um refluxo eleitoral que somente foi revertido a partir da Segunda Guerra Mundial.
- II - A instabilidade política e econômica da Alemanha, a partir de 1930, garantiu cenário favorável ao crescimento eleitoral nazista.
- III - O crescimento eleitoral do partido nazista foi simultâneo ao fortalecimento da República de Weimar a partir do impacto da Crise de 29.

Quais estão corretas?

- (A) Apenas I.
- (B) Apenas II.
- (C) Apenas III.
- (D) Apenas I e III.
- (E) Apenas II e III.

17. Assinale com **V** (verdadeiro) ou **F** (falso) as afirmações abaixo, referentes à Revolução de 30.

- () A Revolução de 30 resultou no alijamento da tradicional oligarquia paulista do centro do poder.
- () A Aliança Liberal, representada por Getúlio Vargas, contou com apoio dos tenentes, de setores médios e populares urbanos e de oligarquias dissidentes.
- () A Revolução de 30 insere-se na onda de acontecimentos políticos resultantes da crise estrutural do capitalismo nos anos 20.
- () A irrupção do Partido Comunista e a influência crescente da Revolução Soviética estão na origem da superação da política do café-com-leite.

A seqüência correta de preenchimento dos parênteses, de cima para baixo, é

- (A) V - V - V - F.
- (B) V - F - V - F.
- (C) F - V - V - V.
- (D) F - V - F - V.
- (E) F - F - F - V.

18. O *New Deal* consistiu em um programa adotado pelos EUA para superar os terríveis efeitos da Grande Depressão gerados pela quebra da Bolsa de Valores de Nova Iorque.

Em relação às medidas aplicadas nesse programa, são feitas as seguintes afirmações.

- I - O Estado tomou a iniciativa de realizar diversas obras públicas com o objetivo de criar postos de trabalho para milhões de desempregados.
- II - As diretrizes keynesianas foram abandonadas em benefício do liberalismo econômico e da autonomia das forças do mercado como marcos reguladores da relação capital-trabalho.
- III - A aplicação do programa contou com forte oposição dos setores conservadores, que denunciavam a intervenção do Estado na economia como um processo de socialização da vida nacional.

Quais estão corretas?

- (A) Apenas I.
- (B) Apenas II.
- (C) Apenas III.
- (D) Apenas I e II.
- (E) Apenas I e III.

19. Com a instituição do Estado Novo em 1937, Getúlio Vargas inaugurou um novo regime político no Brasil, marcado pelo autoritarismo. Entre as características e mecanismos de controle da ditadura varguista, pode-se citar

- (A) a mobilização das massas em grande escala através da atuação de um partido único controlado pelo líder do governo.
- (B) a opção pelo modelo de desenvolvimento econômico liberal, com a privatização dos meios de produção e a abertura do mercado ao capital internacional.
- (C) a difusão e veiculação de propagandas e ideais do novo regime através de programas de rádio como o *Repórter Esso* e a *Hora do Brasil*.
- (D) o alinhamento contínuo e incondicional da política externa do país às diretrizes norteamericanas.
- (E) o reforço das unidades federativas, que passaram a dispor de ampla autonomia político-econômica e administrativa, com vistas a garantir a soberania e a integridade territorial frente a ameaças imperialistas.

20. Observe a charge abaixo.



Arquivo de *O Cruzeiro* / *O Estado de Minas*

No contexto da evolução do cenário político mundial, esta charge faz alusão

- (A) à radicalização integralista do Estado Novo.
- (B) ao processo de esquerdização de Getúlio Vargas.
- (C) ao dogmatismo político de Getúlio Vargas.
- (D) à inflexibilidade ideológica do Estado Novo.
- (E) ao pragmatismo político de Getúlio Vargas.

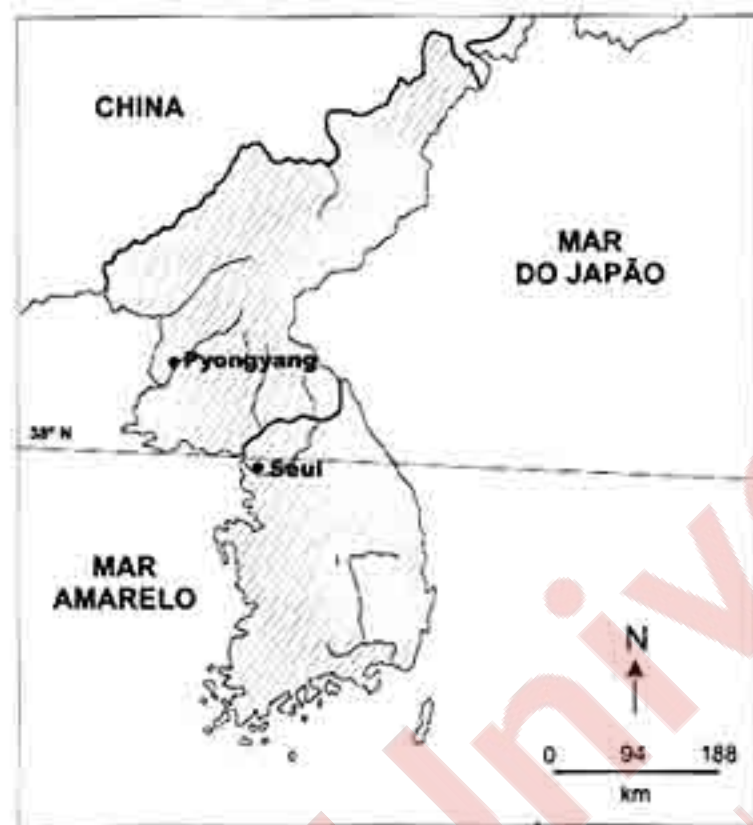
21. Considere as afirmações abaixo em relação à Guerra Civil espanhola (1936-1939).

- I - Ela serviu de laboratório para a experimentação de armamentos, táticas e estratégias militares que foram massivamente utilizadas na Segunda Guerra Mundial.
- II - Ela constituiu um conflito de fortes conotações ideológicas, no qual se destacaram, entre outros elementos, o anticomunismo e o antifascismo.
- III - Ela comportou, simultaneamente ao confronto militar, um processo revolucionário de expropriação de terras e de fábricas, particularmente na Catalunha e em Aragão.

Quais estão corretas?

- (A) Apenas I.
- (B) Apenas II.
- (C) Apenas I e III.
- (D) Apenas II e III.
- (E) I, II e III.

22. Observe o mapa abaixo.



Considere as seguintes afirmações em relação à região destacada no mapa.

- I - Ela foi alvo dos únicos ataques com artefatos nucleares contra seres humanos registrados na história.
- II - Ela foi cenário de importante conflito da Guerra Fria, no início dos anos 50, envolvendo os EUA.
- III - Ela foi palco da maior derrota militar sofrida pelos EUA, apesar do enorme poder de fogo utilizado contra a população local.

Quais estão corretas?

- (A) Apenas I.
- (B) Apenas II.
- (C) Apenas III.
- (D) Apenas I e II.
- (E) Apenas II e III.

23. Nos anos 70, a Península Ibérica foi sacudida pelos acordos da canção *Grandola, Vila Morena*, transformada no sinal que desencadeou as primeiras ações da Revolução dos Cravos, movimento de jovens militares que derrubou

- (A) a ditadura espanhola, instalou a Monarquia do rei Juan Carlos e restabeleceu a democracia no país.
- (B) a ditadura portuguesa, prendeu o primeiro-ministro Mário Soares e impôs o governo do Estado Novo.
- (C) a ditadura espanhola, impôs um governo de frente popular e gerou as condições para a eclosão da Guerra Civil.
- (D) a ditadura portuguesa, iniciou a redemocratização do país e encaminhou as negociações políticas para a independência de Angola e Moçambique.
- (E) a ditadura espanhola, abriu espaço para a ascensão política de Felipe González e impediu a redemocratização do país.

24. O colapso da URSS e do Leste Europeu, a partir da segunda metade dos anos 80, foi antecedido por diversos fatos que apontavam para o esgotamento do poder da liderança soviética e de seus aliados regionais e para a dificuldade em manter o controle sobre situações cada vez mais tensas. Entre esses fatos, pode-se citar corretamente

- (A) o desgaste produzido pelas reivindicações do sindicato Solidariedade na Polônia e a invasão russa do Afeganistão.
- (B) a queda do Muro de Berlim e a unificação da Alemanha ocidental e da Alemanha oriental.
- (C) o processo de desintegração iugoslavo e o fortalecimento do poder instituído em Belgrado.
- (D) a explosão de conflitos separatistas na Tchecôquia e na República moldava.
- (E) a vitória soviética no embate econômico com os EUA e na corrida armamentista conhecida como "Guerra nas Estrelas".

25. Abaixo, na coluna da esquerda, são citadas cinco ditaduras do Cone Sul latino-americano dos anos 60-80. Na coluna da direita, são apresentadas imagens correspondentes a três dessas ditaduras.

Associe adequadamente a coluna da direita à da esquerda.

- 1 - ditadura brasileira
- 2 - ditadura uruguaia
- 3 - ditadura argentina
- 4 - ditadura paraguaia
- 5 - ditadura chilena

()



()



()



A seqüência correta de preenchimento dos parênteses, de cima para baixo, é

- (A) 2 – 3 – 4.
- (B) 5 – 1 – 3.
- (C) 2 – 1 – 5.
- (D) 5 – 4 – 2.
- (E) 1 – 4 – 3.